





T3 - Activité 3 : Système nerveux et hygiène de vie

3e



Fonder ses choix de comportement responsable vis-à-vis de sa santé sur des arguments scientifiques

1 Par groupe, **choisir** un objet d'étude :


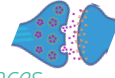
- Alcool 
- Tabac 
- Amphétamine (drogue) 
- Bruit 

A l'aide du document ressource, **rassembler** les informations suivantes :

- Présentation de l'objet à étudier (nature, fabrication, unité de mesure, part touchée de la population...)
- Impact sur le fonctionnement des synapses (schéma)
- Conséquences sur la santé et la vie

2 Former des nouveaux groupes de 4, où chaque membre aura étudié un objet différent. Tour à tour, chaque membre **présente** son objet d'étude aux autres. Diviser ensuite une feuille en 4 et **remplir** chaque quart avec les éléments recueillis pour chaque objet d'étude.

1. L'alcool provient de...
2. Il agit sur les synapses de la façon suivante :
3. Ses conséquences...





T3 - Activité 3 : Système nerveux et hygiène de vie

3e



Fonder ses choix de comportement responsable vis-à-vis de sa santé sur des arguments scientifiques

1 Par groupe, **choisir** un objet d'étude :

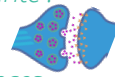
- Alcool 
- Tabac 
- Amphétamine (drogue) 
- Bruit 

A l'aide du document ressource, **rassembler** les informations suivantes :

- Présentation de l'objet à étudier (nature, fabrication, unité de mesure, part touchée de la population...)
- Impact sur le fonctionnement des synapses (schéma)
- Conséquences sur la santé et la vie

2 Former des nouveaux groupes de 4, où chaque membre aura étudié un objet différent. Tour à tour, chaque membre **présente** son objet d'étude aux autres. Diviser ensuite une feuille en 4 et **remplir** chaque quart avec les éléments recueillis pour chaque objet d'étude.

1. L'alcool provient de...
2. Il agit sur les synapses de la façon suivante :
3. Ses conséquences...







T3 - Activité 3 : Système nerveux et hygiène de vie

3e



Fonder ses choix de comportement responsable vis-à-vis de sa santé sur des arguments scientifiques

1 Par groupe, **choisir** un objet d'étude :

- Alcool 
- Tabac 
- Amphétamine (drogue) 
- Bruit 

A l'aide du document ressource, **rassembler** les informations suivantes :

- Présentation de l'objet à étudier (nature, fabrication, unité de mesure, part touchée de la population...)
- Impact sur le fonctionnement des synapses (schéma)
- Conséquences sur la santé et la vie

2 Former des nouveaux groupes de 4, où chaque membre aura étudié un objet différent. Tour à tour, chaque membre **présente** son objet d'étude aux autres. Diviser ensuite une feuille en 4 et **remplir** chaque quart avec les éléments recueillis pour chaque objet d'étude.

1. L'alcool provient de...
2. Il agit sur les synapses de la façon suivante :
3. Ses conséquences...

